



Description du cube et du pavé droit

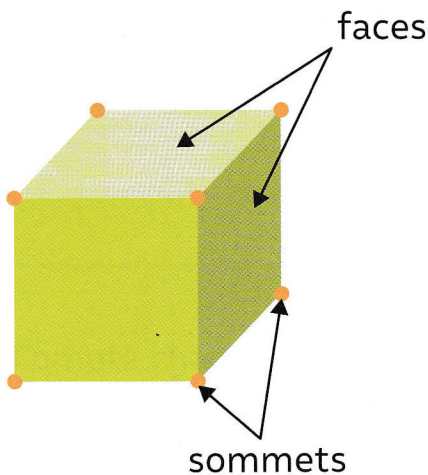
Compétence : Décrire un cube et un pavé droit (faces, arêtes, sommets)

Je manipule

J'utilise des .

- Prends un cube  ou un pavé droit .
- Regarde une de ses faces.
- De quelle forme est-elle ?
- Combien ce solide a-t-il de faces ?

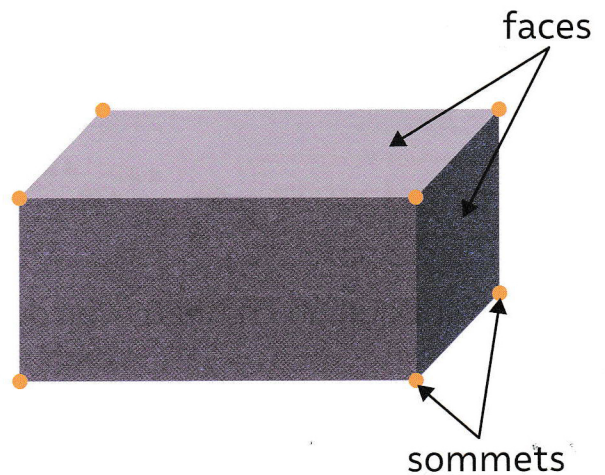
J'observe et j'apprends




Un **cube** possède 6 faces.
Chaque face du cube est un **carré**.



Colorie en **vert** ce carré.



Un **pavé droit** possède 6 faces.
Chaque face du pavé droit est un **rectangle**.



Colorie en **violet** ce rectangle.